

**GUÍA DE MATEMÁTICA: RETROALIMENTACIÓN N° 1****“Representación de Fracciones”**

NOMBRE	CURSO	4° A - B
	FECHA	/ /

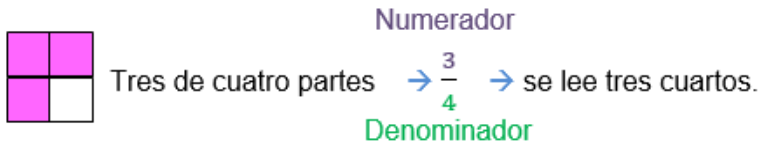
Capacidad: Razonamiento Lógico. Resolución de Problemas.

Destrezas: Identificar, explicar, resolver.

INSTRUCCIONES: Imprimir esta guía, pégala y desarróllala en tu cuaderno. Si no puedes imprimirla deja el espacio para la guía y sólo realiza el desarrollo en tu cuaderno poniendo el nombre de la guía. Cuando vuelvas se te entregará una copia para pegarla.

Recordemos las Fracciones:

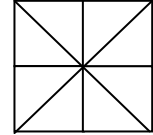
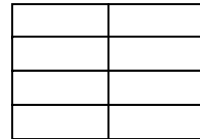

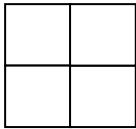
Una fracción representa las partes consideradas de un entero dividido en partes iguales.



Al comparar fracciones de igual denominador, será mayor la fracción que tenga mayor numerador.


Actividades

1. Pinta la cuarta parte de cada figura.




1. Pinta los elementos para representar las fracciones dadas.

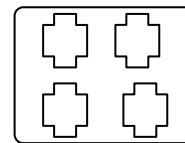
a. $\frac{1}{2}$



b. $\frac{2}{3}$



c. $\frac{3}{4}$



2. Resuelve los siguientes problemas en tu cuaderno.

a) Lorena y su hermano están pintando una muralla. Si Lorena ha pintado $\frac{2}{3}$ de la muralla y su hermano $\frac{1}{3}$ de esta, ¿quién ha pintado más?

b) Observa la figura, ¿en ella esta representada la fracción $\frac{1}{3}$? Justifica tu respuesta.

