

Ámbito: Interacción y Comprensión del Entorno.

Núcleo: Pensamiento Matemático.

Capacidad: Orientación espacial.

Destreza: Secuenciar.

Instrucción: 1-Realiza el conteo en forma ascendente y descendentes en la secuencia numérica.

2-Completa la secuencia según corresponda.



Ascendente



Descendente

1 2 3 4 5 6 7 8 9 10



1					
	5		7		
				9	



	2				
4		6		8	
					10



1						
						10



Ámbito: Interacción y Comprensión del Entorno.

Núcleo: Pensamiento Matemático.

Capacidad: Razonamiento lógico

Destreza: Reconocer -Resolver

Instrucción: 1-Observa la ficha y luego revisa el ppt enviado "CONTEMOS Y SUMEMOS"

2-Identifica y nombra cada uno de los número que aparecen en la ficha.

3-Explique la actividad al niño/a y solo supervise el trabajo que realiza, si se equivoca en algún resultado no lo corrija ya que la guía será evaluada y se enviará una retroalimentación.

4- pinta las celdas de acuerdo al resultado de la suma y escribe el resultado en el

Envía la ficha desarrollada al correo electrónico:


espinozarodriguezsolange@gmail.com (kinder A)

jocelyn12589@gmail.com (Kinder B)




Ejemplo.


$$3 + 3 = \boxed{6}$$



$$6 + 2 = \square$$



$$8 + 1 = \square$$




$$6 + 3 = \square$$



$$5 + 1 = \square$$



$$3 + 2 = \square$$



$$4 + 3 = \square$$

