



Evaluación Formativa 3
Ciencias Naturales
Terceros básicos

Profesora: Carmen Gloria Gallardo M.

Tema: Ubicación y función de órganos y sistemas del cuerpo

Habilidades: Identificar – Reconocer – Clasificar- Analizar. OA7

NOMBRE: _____ CURSO: _____

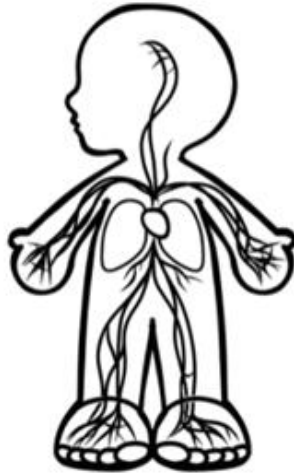
Semana del 17 al 21 de Mayo

Porcentaje real	Porcentaje obtenido
100%	



Ítem I Las siguientes imágenes representan a un sistema del cuerpo, debes escribir el nombre del sistema correcto, recuerda responder con letra clara (15%) (5% c/u)







Ítem II Une con una línea de colores diferentes, el órgano con su sistema. (15%) (5% c/u)



Sistema Circulatorio

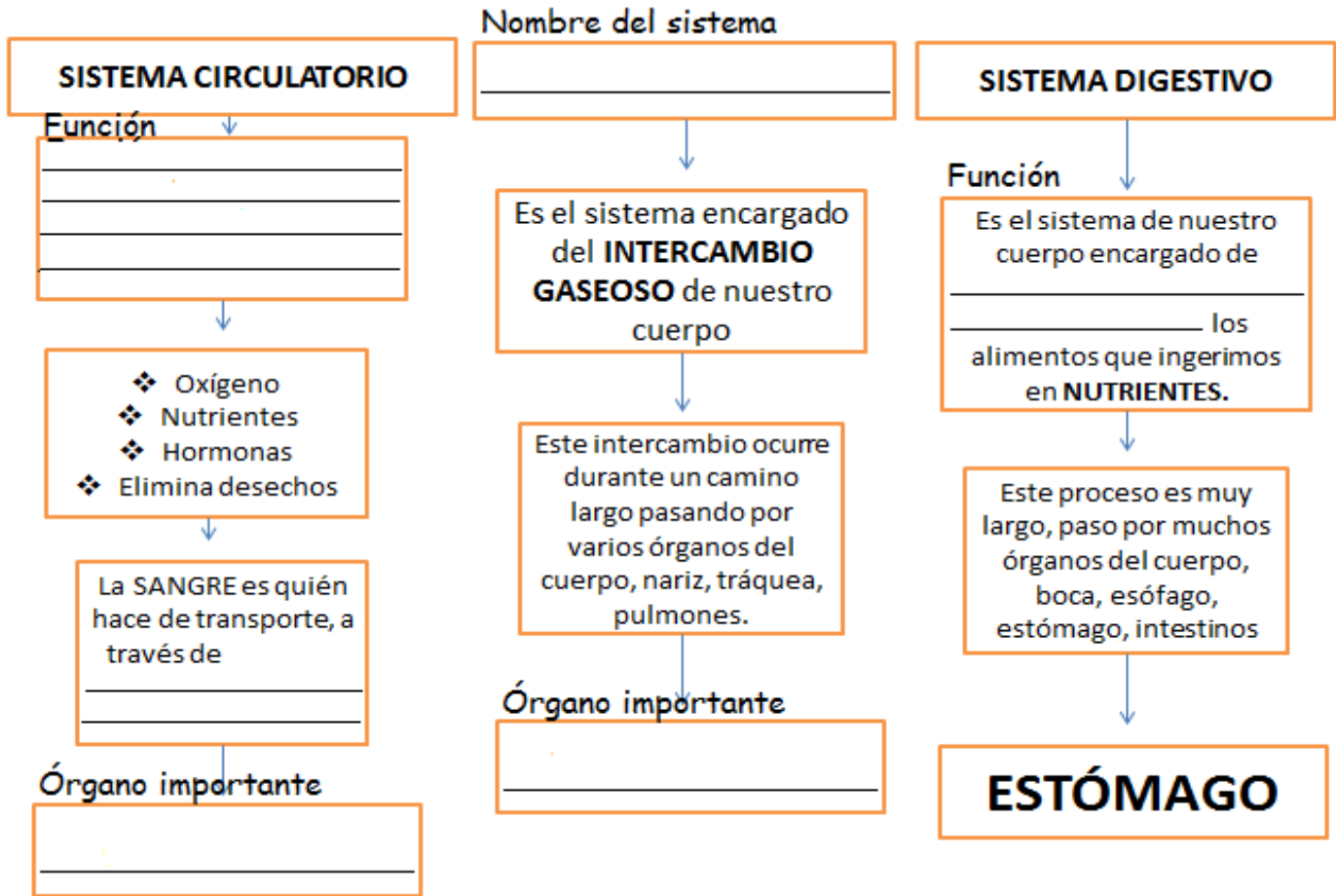


Sistema Digestivo



Sistema Respiratorio

Item -III En el siguiente mapa conceptual, falta información importantísima, debes reconocer lo que falta y anotarlo, recuerda escribir con letra clara (35%) (5%c/u)



1.- El Corazón:

- a) Está encargado de la respiración del cuerpo.
- b) Está encargado de digerir los alimentos.
- c) Está encargado de bombear la sangre a todo el cuerpo.
- d) Está encargado de mover el cuerpo.

3.- ¿Cuál es el órgano que se encarga de la digestión de los alimentos?

- a) Pulmón
- b) Dientes
- c) Corazón
- d) Estómago

2.- ¿Qué órgano es el que se muestra en la imagen?

- a) Corazón
- b) Pulmones
- c) Cerebro
- d) Estómago




4.- El estómago, corazón y pulmones son:

- a) Sistemas
- b) Tejidos
- c) Órganos
- d) Huesos

Ítem IV Marca con un círculo la alternativa correcta, lee muy bien las preguntas para responder (20%) (5%c/u)

Ítem V En esta actividad, debes ubicar (dibújalos) los órganos en el cuerpo, según la ubicación correcta (15% (5%c/u).



profesoracarmengloriagallardo@gmail.com